




Ziele

- Begriffe kennen und verstehen: Variable, Term
- Du kannst in einem Term für die Variablen Zahlenwerte einsetzen und den Wert des Terms bestimmen.
- Du kannst für einen einfachen Sachverhalt einen Term mit zwei Variablen notieren.

Variablen

<input type="checkbox"/>	†	P	Tb	S.24		Lies die Einleitung übertrage die Tabelle (ohne Fragezeichen...) und ergänze. Überprüfe die Lösung sofort!
					1a+b)	
<input type="checkbox"/>	†	P	Tb	S.24	1c	Zeichne die Säcke ins Heft und beschrifte sie.
<input type="checkbox"/>	†	P	AhII	S.44/5	1.1a – d	a) es ist keine Zahl gesucht! Beschreibe in Worten. b) ergänze die Tabelle und schreibe über die Buchstaben die Terme wie in 1.1 c) wenn du nicht verstehst, was gesucht ist, so schau in den Lösungen nach. d) Nicht pröbeln... wenn die Summe $4 \bullet u - 3$ ist, dann ist u ?! komm vorbei, wenn du nicht weisst, wie du auf den Inhalt in A kommst.
<input type="checkbox"/>	†	K	AhII	S.45	1.1 e)	 1.1e) Visum DD
<input type="checkbox"/>	†	P	AhII	S.45	1.2 a)	<div style="display: flex; justify-content: space-around; align-items: center;"> <div style="border: 1px solid black; padding: 2px;">$2 \bullet x$</div> <div style="border: 1px solid black; padding: 2px;">$4 \bullet x - 3$</div> <div style="border: 1px solid black; padding: 2px;">$x + 7$</div> <div style="border: 1px solid black; padding: 2px;">$x : 2$</div> <div style="border: 1px solid black; padding: 2px;">$3 \bullet x + 1$</div> </div>
<input type="checkbox"/>	†	P	AhII	S.46	1.2 b)	in jedem Term muss k vorkommen
<input type="checkbox"/>	† †	T	AhII	S.46	1.2 c)	Tausche die Aufgaben mit jemandem aus, der/die die Aufgabe auch vorbereitet hat. Notiere die Aufgabenstellung ins Heft und löse sie dort.
						 1.2c) Visum DD
<input type="checkbox"/>	†	P	AhII	S.46/7	1.3	a) ja genau... $3 \bullet u + 1$ 😊 b)
<input type="checkbox"/>	†	K				kreiere eine ähnliche Aufgabe wie 1.3 und löse sie.
						 K 1.3 Visum DD
<input type="checkbox"/>	† † †	P				1 Freitag, 1.11. 2013 besprechen der Aufgabengruppe 1
		P	Tb	S.25/6	2	lösen wir gemeinsam ins Heft.

<input type="checkbox"/>	†	P	AhII	S.47	2.1a–c	a) Überlegung erstes Feld: 5 Minuten mal 48 Rappen + 15 Rappen Grundgebühr = 240 + 15 = 255 Rp. fülle alle Felder aus. b) verbinde c) Schreibe in die Tabelle zu «Gesprächsdauer in Minuten» die Variable t
<input type="checkbox"/>	†	T	AhII	S.47	2.1d)	
<input type="checkbox"/>	†	P	AhII	S.48	2.2	a) Tabelle ausfüllen (5 Minuten Gespräch) b) $g + 5 \cdot m$ c1) berechne die Kosten c2) Beschreibe das Angebot wie verlangt.
<input type="checkbox"/>	†	T	AhII	S.48/9	2.3a+b)	
<input type="checkbox"/>	†	T	AhII	S.48/9	2.3c)	
<input type="checkbox"/>	† † †	P	Tb/AB	S.27	3	<input type="text" value="Dienstag, 5.11.2013"/>
<input type="checkbox"/>	† † †	P	AhII	S.49	3.1a – f	
<input type="checkbox"/>	†	P	Tb	S.27	4	Ordne zu und notiere ins Heft <input type="text" value="2•r"/> <input type="text" value="(r + 3) : 5"/> <input type="text" value="r : 2 - 2"/> <input type="text" value="r + 1"/> <input type="text" value="r - 2"/> <input type="text" value="2•r + 3"/>
<input type="checkbox"/>	†	P	AhII	S.53	4.1a	2 sind richtig – 3 sind falsch
<input type="checkbox"/>	†	T	AhII	S.53	4.1b	
<input type="checkbox"/>	†	P	AhII	S.53	4.2	Terme sind gesucht – keine Resultate
<input type="checkbox"/>	†	P	AhII	S.54	4.3	
<input type="checkbox"/>	†	T	AhII	S.54	4.3	Notiere die Terme aus 4.3 ins Heft. Setze nachher folgende Werte in die Terme ein und berechne: $k = 12.- \mid s = 4 \mid x = 80 \mid y = 270 \mid p = 75$
<input type="checkbox"/>	†	P	AhII	S.54	4.4	
<input type="checkbox"/>	†	K	AhII	S.54	4.4	I) Berechne den Term, wenn $a = 5$ und $b = 2$ II) Berechne den Term, wenn $a = 4$ und $b = 3$
<input type="checkbox"/>	†	P	AhII	S.55	4.5	
<input type="checkbox"/>	†	P	AhII	S.55	4.6	
<input type="checkbox"/>	† †	P	Bh	S.30		<input type="text" value="Mittwoch, 6.11.2013"/> <input type="text" value="Abgabe anfangs Stunde vom 8.11."/>



P

1 Fr, 8.11, anfangs Stunde Abgabe vorbereiten:

- Kontrolle der Aufgaben aus Gruppe 4
- Heft bereit: kontrolliert – verbessert - visiert
- alle kontrollierten Arbeitsblätter im gelben Mäppchen
- Bewertungsbroschüre ausfüllen P ? (41) T/K ? (15) (mit 8 gelösten T Aufgaben gibts eine 5)
- Arbeitsprogramm in Bewertungsbroschüre